




Mia hat aus schwarzen und weißen Würfeln einen Turm gebaut.


Diesen hat sie so gebaut, dass er rundherum ein Schachbrettmuster hat.



Wie viele weiße und schwarze Würfel hat sie verwendet?




Erkläre, wie du vorgegangen bist!



Mia hat aus schwarzen und weißen Würfeln einen Turm gebaut.


Diesen hat sie so gebaut, dass er rundherum ein Schachbrettmuster hat.



Wie viele weiße und schwarze Würfel hat sie verwendet?




Erkläre, wie du vorgegangen bist!



Mia hat aus schwarzen und weißen Würfeln einen Turm gebaut.

Diesen hat sie so gebaut, dass er rundherum ein Schachbrettmuster hat.



Wie viele weiße und schwarze Würfel hat sie verwendet?



Erkläre, wie du vorgegangen bist!