

Mia hat im Keller einen alten Zettel gefunden:



„Dies könnte eine Multiplikationsaufgabe sein“, denkt sich Mia.

Doch welches Zeichen steht für welche Ziffer?

Ein Zeichen hat sie schon entschlüsselt. Schaffst du den Rest?

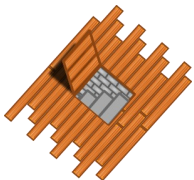

☝	
☞	
☝	
☞	
☞	2



Schreibe die entschlüsselte Aufgabe auf!



Erkläre, wie du vorgegangen bist!



Mia hat im Keller einen alten Zettel gefunden:



„Dies könnte eine Multiplikationsaufgabe sein“, denkt sich Mia.

Doch welches Zeichen steht für welche Ziffer?

Ein Zeichen hat sie schon entschlüsselt. Schaffst du den Rest?

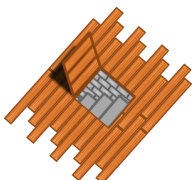

☝	
☞	
☝	
☞	
☞	2



Schreibe die entschlüsselte Aufgabe auf!



Erkläre, wie du vorgegangen bist!



Mia hat im Keller einen alten Zettel gefunden:



„Dies könnte eine Multiplikationsaufgabe sein“, denkt sich Mia.

Doch welches Zeichen steht für welche Ziffer?

Ein Zeichen hat sie schon entschlüsselt. Schaffst du den Rest?

☝	
☞	
☝	
☞	
☞	2



Schreibe die entschlüsselte Aufgabe auf!



Erkläre, wie du vorgegangen bist!