

Mia und Momo machen in der Hitze eine Wasserbombenschlacht. Mia wirft insgesamt 20 Wasserbomben auf Momo und trifft 17-mal. Momo hat Mia genau so oft getroffen. Allerdings hat er dreimal häufiger daneben geworfen.



Wie viele Wasserbomben hat Momo geworfen?




Erkläre, wie du vorgegangen bist!

Klasse 3/4

Arithmetik



OPEN EDUCATIONAL RESOURCES veröffentlicht unter cc-by-sa 4.0



Mia und Momo machen in der Hitze eine Wasserbombenschlacht. Mia wirft insgesamt 20 Wasserbomben auf Momo und trifft 17-mal. Momo hat Mia genau so oft getroffen. Allerdings hat er dreimal häufiger daneben geworfen.



Wie viele Wasserbomben hat Momo geworfen?





Erkläre, wie du vorgegangen bist!

Klasse 3/4

Arithmetik



OPEN EDUCATIONAL RESOURCES veröffentlicht unter cc-by-sa 4.0



Mia und Momo machen in der Hitze eine Wasserbombenschlacht. Mia wirft insgesamt 20 Wasserbomben auf Momo und trifft 17-mal. Momo hat Mia genau so oft getroffen. Allerdings hat er dreimal häufiger daneben geworfen.



Wie viele Wasserbomben hat Momo geworfen?



Erkläre, wie du vorgegangen bist!

Klasse 3/4

Arithmetik



OPEN EDUCATIONAL RESOURCES veröffentlicht unter cc-by-sa 4.0

