




Mia nutzt das gute Wetter und sät Gemüse in ihrem Garten aus. Sie sät Möhren und Radieschen aus, insgesamt hat sie 52 Samen gesät. Es sind jedoch dreimal so viele Radieschen wie Möhren.

-  Wie viele Möhren kann Mia im Sommer höchstens ernten?
-  Erkläre, wie du vorgegangen bist!




Mia nutzt das gute Wetter und sät Gemüse in ihrem Garten aus. Sie sät Möhren und Radieschen aus, insgesamt hat sie 52 Samen gesät. Es sind jedoch dreimal so viele Radieschen wie Möhren.

-  Wie viele Möhren kann Mia im Sommer höchstens ernten?
-  Erkläre, wie du vorgegangen bist!



Mia nutzt das gute Wetter und sät Gemüse in ihrem Garten aus. Sie sät Möhren und Radieschen aus, insgesamt hat sie 52 Samen gesät. Es sind jedoch dreimal so viele Radieschen wie Möhren.

-  Wie viele Möhren kann Mia im Sommer höchstens ernten?
-  Erkläre, wie du vorgegangen bist!