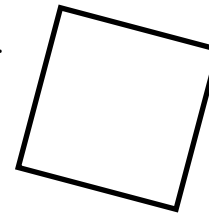




Mia hat einen quadratischen Kuchen gebacken.

Diesen möchte sie in 4 Stücke schneiden: 2 Vierecke und 2 Dreiecke.


Dabei möchte sie jedoch nur genau 2 Schnitte machen.



Wie muss Mia schneiden?




Erkläre, wie du vorgegangen bist!



Mia hat einen quadratischen Kuchen gebacken.

Diesen möchte sie in 4 Stücke schneiden: 2 Vierecke und 2 Dreiecke.

Dabei möchte sie jedoch nur genau 2 Schnitte machen.



Wie muss Mia schneiden?



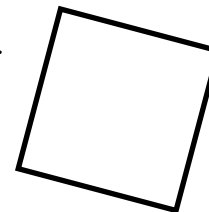
Erkläre, wie du vorgegangen bist!



Mia hat einen quadratischen Kuchen gebacken.

Diesen möchte sie in 4 Stücke schneiden: 2 Vierecke und 2 Dreiecke.

Dabei möchte sie jedoch nur genau 2 Schnitte machen.



Wie muss Mia schneiden?



Erkläre, wie du vorgegangen bist!