





Mia hat ihrer Oma zum Geburtstag ein Kunstwerk aus kleinen Holzwürfeln gebastelt. Ein kleiner Würfel hat eine Kantenlänge von 9cm. Nun möchte sie das Kunstwerk mit einem Paket verschicken.




Welche Maße muss das Paket mindestens haben?



Erkläre, wie du vorgegangen bist!




Mia hat ihrer Oma zum Geburtstag ein Kunstwerk aus kleinen Holzwürfeln gebastelt. Ein kleiner Würfel hat eine Kantenlänge von 9cm. Nun möchte sie das Kunstwerk mit einem Paket verschicken.




Welche Maße muss das Paket mindestens haben?



Erkläre, wie du vorgegangen bist!



Mia hat ihrer Oma zum Geburtstag ein Kunstwerk aus kleinen Holzwürfeln gebastelt. Ein kleiner Würfel hat eine Kantenlänge von 9cm. Nun möchte sie das Kunstwerk mit einem Paket verschicken.



Welche Maße muss das Paket mindestens haben?



Erkläre, wie du vorgegangen bist!