



Mia möchte ein Geschenk für Momo einpacken.
Der Karton ist 15cm hoch, 20cm breit und 10cm lang.
Sie hat im Schrank noch ein Stück Geschenkpapier gefunden.
Dieses ist 30cm breit und 40cm lang.

-  Reicht das Stück, um das Geschenk einzupacken?
-  Erkläre, wie du vorgegangen bist!



Klasse 3/4

Geometrie

OER
OPEN EDUCATIONAL RESOURCES
veröffentlicht unter cc-by-sa 4.0




Mia möchte ein Geschenk für Momo einpacken.
Der Karton ist 15cm hoch, 20cm breit und 10cm lang.
Sie hat im Schrank noch ein Stück Geschenkpapier gefunden.
Dieses ist 30cm breit und 40cm lang.

-  Reicht das Stück, um das Geschenk einzupacken?
-  Erkläre, wie du vorgegangen bist!



Klasse 3/4

Geometrie

OER
OPEN EDUCATIONAL RESOURCES
veröffentlicht unter cc-by-sa 4.0



Mia möchte ein Geschenk für Momo einpacken.
Der Karton ist 15cm hoch, 20cm breit und 10cm lang.
Sie hat im Schrank noch ein Stück Geschenkpapier gefunden.
Dieses ist 30cm breit und 40cm lang.

-  Reicht das Stück, um das Geschenk einzupacken?
-  Erkläre, wie du vorgegangen bist!

Klasse 3/4

Geometrie

OER
OPEN EDUCATIONAL RESOURCES
veröffentlicht unter cc-by-sa 4.0

