

Mia hat eine Dominoreihe gelegt. Sie addiert die Punkte aller Steine und erhält als Ergebnis 47.


Dann kommt ihr Bruder und klaut ihr zwei Steine.



Welche Steine hat Mias Bruder geklaut?



Erkläre, wie du vorgegangen bist!



Mia hat eine Dominoreihe gelegt. Sie addiert die Punkte aller Steine und erhält als Ergebnis 47.



Dann kommt ihr Bruder und klaut ihr zwei Steine.



Welche Steine hat Mias Bruder geklaut?



Erkläre, wie du vorgegangen bist!



Mia hat eine Dominoreihe gelegt. Sie addiert die Punkte aller Steine und erhält als Ergebnis 47.

Dann kommt ihr Bruder und klaut ihr zwei Steine.



Welche Steine hat Mias Bruder geklaut?



Erkläre, wie du vorgegangen bist!