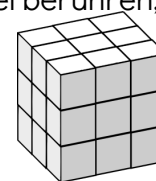


Mia hat einen Würfel aus 27 kleinen Würfelchen gebastelt.
 Sie verwendet Kleber, damit der Würfel besser hält.
 Immer dann, wenn sich zwei Seitenflächen der kleinen Würfel berühren,
 macht Mia einen kleinen Klebepunkt.



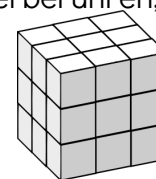
Wie viele Klebepunkte muss Mia machen?



Erkläre, wie du vorgegangen bist!



Mia hat einen Würfel aus 27 kleinen Würfelchen gebastelt.
 Sie verwendet Kleber, damit der Würfel besser hält.
 Immer dann, wenn sich zwei Seitenflächen der kleinen Würfel berühren,
 macht Mia einen kleinen Klebepunkt.



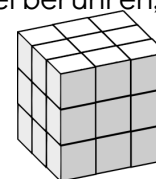
Wie viele Klebepunkte muss Mia machen?



Erkläre, wie du vorgegangen bist!



Mia hat einen Würfel aus 27 kleinen Würfelchen gebastelt.
 Sie verwendet Kleber, damit der Würfel besser hält.
 Immer dann, wenn sich zwei Seitenflächen der kleinen Würfel berühren,
 macht Mia einen kleinen Klebepunkt.



Wie viele Klebepunkte muss Mia machen?



Erkläre, wie du vorgegangen bist!