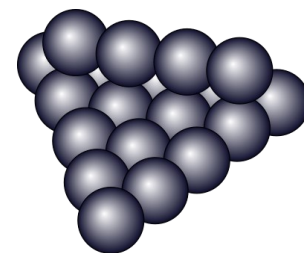




Mia bereitet sich für die nächste Wasserschlacht mit Momo vor.
Sie hat bereits einige Ballons mit Wasser gefüllt.
Sie möchte gerne eine vollständige Pyramide haben.



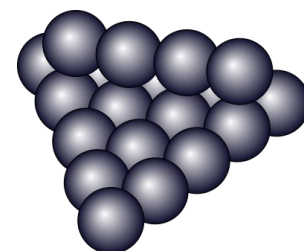
Wie viele Ballons muss sie noch füllen?



Erkläre, wie du vorgegangen bist!





Mia bereitet sich für die nächste Wasserschlacht mit Momo vor.
Sie hat bereits einige Ballons mit Wasser gefüllt.
Sie möchte gerne eine vollständige Pyramide haben.



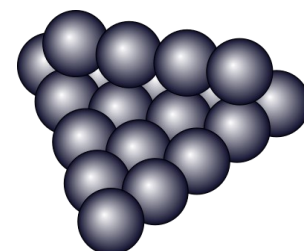
Wie viele Ballons muss sie noch füllen?



Erkläre, wie du vorgegangen bist!



Mia bereitet sich für die nächste Wasserschlacht mit Momo vor.
Sie hat bereits einige Ballons mit Wasser gefüllt.
Sie möchte gerne eine vollständige Pyramide haben.



Wie viele Ballons muss sie noch füllen?



Erkläre, wie du vorgegangen bist!