








Mia macht Urlaub am Meer.  
 Am Strand möchte sie ein 4 Meter tiefes Loch buddeln.  
 Sie schafft tagsüber 50cm tief zu buddeln.  
 Nachts rieseln jedoch wieder 25cm Sand von den Wänden in das Loch.

-  Nach wie vielen Tagen ist Mias Loch fertig?
-  Erkläre, wie du vorgegangen bist!





Mia macht Urlaub am Meer.  
 Am Strand möchte sie ein 4 Meter tiefes Loch buddeln.  
 Sie schafft tagsüber 50cm tief zu buddeln.  
 Nachts rieseln jedoch wieder 25cm Sand von den Wänden in das Loch.

-  Nach wie vielen Tagen ist Mias Loch fertig?
-  Erkläre, wie du vorgegangen bist!



Mia macht Urlaub am Meer.  
 Am Strand möchte sie ein 4 Meter tiefes Loch buddeln.  
 Sie schafft tagsüber 50cm tief zu buddeln.  
 Nachts rieseln jedoch wieder 25cm Sand von den Wänden in das Loch.

-  Nach wie vielen Tagen ist Mias Loch fertig?
-  Erkläre, wie du vorgegangen bist!